

# Karte – Orientierung auf der Landkarte

1. Auf einer Landkarte befindet sich \_\_\_\_\_ immer oben.

Welche Stadt liegt wo? Ergänze:

Im Norden von Deutschland liegt \_\_\_\_\_.

Dresden liegt \_\_\_\_\_ von Erfurt.

Im Westen von Deutschland liegt \_\_\_\_\_.

Südwestlich von Stuttgart liegt \_\_\_\_\_.

München liegt dagegen \_\_\_\_\_ von Stuttgart.



2. Betrachte den Stadtplan unten.





Wo wohnt Tom?

Nach der Schule läuft Tom die Ahornstraße entlang Richtung Nordosten. An der ersten Möglichkeit geht er nach Osten in die \_\_\_\_\_.

An der Kreuzung folgt er nördlich dem Dr.-Schiller-Weg. Am Ende der Straße geht er nach Osten und biegt an der zweiten Straße in Richtung Norden ab.

Er hat sein Ziel erreicht. Er wohnt in der \_\_\_\_\_.

3. Die Zeichen einer Karte werden in einer \_\_\_\_\_ erklärt.

Was bedeuten diese Kartenzeichen?	Male die passenden Kartenzeichen.
	Brücke
	Eisenbahnlinie
	Laubwald
	Ruine

4. Ergänze diese Orte im Stadtplan. Verwende die passenden Kartenzeichen.

Das Schwimmbad liegt südlich der Kaiserallee und auf der Ostseite der Badstraße.

Die Touristeninformation liegt westlich neben dem Bahnhof an der Bahnhofstraße.

Die Kirche liegt südlich der Eisenbahnlinie am Ende des Kirchwegs.

